

Lies laut, schreibe die Aufgabe auf und rechne aus!

1. Aufgabe:

Ich habe 3  Bälle. Einer  davon geht kaputt. Wie viele Bälle habe ich dann noch?

			=	
--	--	--	---	--

2. Aufgabe:

Ich habe 2  Bälle. Zwei  Bälle bekomme ich noch dazu. Wie viele Bälle habe ich dann?



			=	
--	--	--	---	--

3. Aufgabe:

Ich habe 5  Bälle. Alle fünf  verliere ich. Wie viele Bälle habe ich dann noch?

			=	
--	--	--	---	--

4. Aufgabe:

Ich habe 4  Bälle. Drei  gebe ich meinen Freunden. Wie viele Bälle habe ich dann noch?

			=	
--	--	--	---	--

Lies laut, schreibe die Aufgabe auf und rechne aus!

5. Aufgabe:

Ich habe 3    Bälle. Zwei   bekomme ich dazu. Wie viele habe ich dann?






			=	
--	--	--	---	--

6. Aufgabe:

Ich habe 4     Bälle. Einen  bekomme ich dazu. Wie viele Bälle habe ich dann?








			=	
--	--	--	---	--

7. Aufgabe:

Ich habe 3    Tassen. Zwei   bekomme ich dazu. Wie viele Tassen habe ich dann?

			=	
--	--	--	---	--



8. Aufgabe:

Ich habe 5      Blumen. Zwei   davon verschenke ich. Wie viele Blumen habe ich dann noch?

			=	
--	--	--	---	--

Lies laut, schreibe die Aufgabe auf und rechne aus!

9. Aufgabe:

Ich habe drei  Herzen. Drei  verschenke ich. Wie viele Herzen habe ich dann noch?

			=	
--	--	--	---	--

10. Aufgabe:

Ich habe 5  Tassen. Fünf  gehen kaputt. Wie viele Tassen habe ich dann noch?

			=	
--	--	--	---	--

11. Aufgabe:

Ich habe 4  Töpfe. Vier  verliere ich. Wie viele Töpfe habe ich dann noch?

			=	
--	--	--	---	--



Lies laut, schreibe die Aufgabe auf und rechne aus!

12. Aufgabe:

Du hast 8  Bälle. Einer  davon geht kaputt. Wie viele Bälle hast du dann noch?

			=	
--	--	--	---	--

13. Aufgabe:

Du hast 5  Bälle. Bekommst noch fünf  Bälle dazu. Wie viele Bälle hast du dann?



			=	
--	--	--	---	--

14. Aufgabe:

Du hast 10  Bälle. Fünf  Bälle verlierst du. Wie viele Bälle hast du dann noch?

			=	
--	--	--	---	--

15. Aufgabe:

Du hast 9  Bälle. Drei  gibst du deinen Freunden. Wie viele Bälle hast du dann noch?

			=	
--	--	--	---	--

Lies laut, schreibe die Aufgabe auf und rechne aus!

16. Aufgabe:

Du hast 8  Bälle. Zwei  bekommst du dazu. Wie viele hast du dann?

			=	
--	--	--	---	--

17. Aufgabe:

Du hast 9  Bälle. Einen  bekommst du dazu. Wie viele hast du dann?



			=	
--	--	--	---	--

18. Aufgabe:

Du hast 8  Töpfe. Einer  davon geht kaputt. Wie viele Töpfe hast du dann noch?

			=	
--	--	--	---	--

19. Aufgabe:

Du hast 5  Töpfe. Bekommst noch fünf  Töpfe dazu. Wie viele Töpfe hast du dann?

			=	
--	--	--	---	--

Lies laut, schreibe die Aufgabe auf und rechne aus!

20. Aufgabe:

Du hast 10  Töpfe. Fünf  verlierst du. Wie viele Töpfe hast du dann noch?

			=	
--	--	--	---	--

21. Aufgabe:

Du hast 9  Töpfe. Drei  gibst du deinen Freunden. Wie viele Töpfe hast du dann noch?

			=	
--	--	--	---	--

22. Aufgabe:

Du hast 8  Töpfe. Zwei  bekommst du dazu. Wie viele Töpfe hast du dann?

			=	
--	--	--	---	--

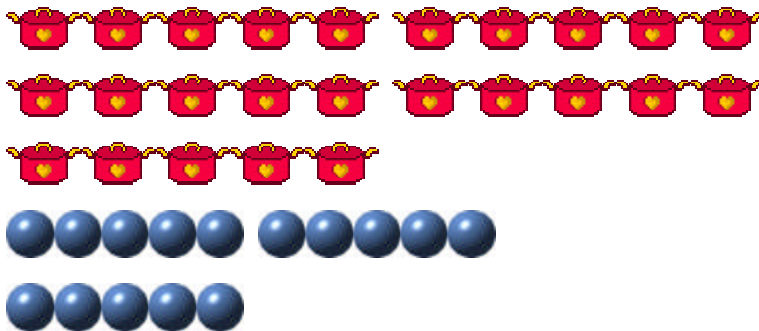
Lies laut, schreibe die Aufgabe auf und rechne aus!

23. Aufgabe:

Du hast 9          Töpfe.
Einen  bekommst du dazu. Wie viele Töpfe hast du dann?

			=	
--	--	--	---	--

24. Aufgabe:



Wie viele Töpfe und Bälle siehst du hier?

So viele Töpfe:

So viele Bälle:

Wie viele sind es zusammen?