



Finde eine Rechnung zu den Bildern

Erzähle eine Geschichte und rechne

vorher




nachher






Finde eine Rechnung zu den Bildern

Erzähle eine Geschichte und rechne

vorher




nachher





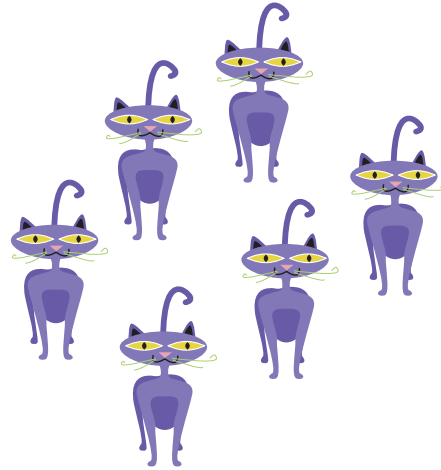
Finde eine Rechnung zu den Bildern

Erzähle eine Geschichte und rechne

vorher



nachher





Finde eine Rechnung zu den Bildern

Erzähle eine Geschichte und rechne

vorher




nachher





Finde eine Rechnung zu den Bildern

Erzähle eine Geschichte und rechne

vorher



nachher



Rechengeschichten

Schneide eine Geschichte aus
Klebe sie in dein Heft
Male dazu ein Bild
Rechne
Schreibe die Antwort dazu

In der Tierhandlung stehen 5 Käfige. In jedem Käfig sitzen 6 Vögel.
Wieviele Vögel sind das?

Sabine kauft Obst. Sie kauft 3 Netze mit Orangen. In jedem Netz sind 7 Stück.
Wieviele Orangen hat sie gekauft?

Laura fädelt eine Kette mit bunten Perlen. Sie nimmt 5 rote, 7 blaue und
8 gelbe Perlen. Wieviele Perlen hat die Kette?

In einem Aquarium schwimmen 20 Fische. Peter kauft 7 Fische.
Wieviele Fische sind noch im Aquarium?

Simon kauft von seinem Taschengeld 4 Bücher. Ein Buch kostet 9 Euro.
Wieviel muss er bezahlen?

David hat 19 Spielzeugautos. Seinem Freund schenkt er 11.
Wieviele Autos hat er noch?
