



















Schneckenrennen

Start								
1	2	3	4	5	6	7	8	9
								
<p>Auf jeder Bahn steht eine Schnecke am Start. Auf der Bahn 1 die Schnecke mit der Startnummer 1, auf Bahn 2 die Schnecke mit der Startnummer 2 und so weiter. Beschrifte die Schnecken nach der Nummer der Bahn, auf der sie starten. Am Ziel siehst du, in welcher Reihenfolge die Schnecken ankommen. Fülle die Rangliste auf der nächsten Seite aus.</p>								
								
Ziel								

Schnecke Nummer **6** ist **Erste** . (**1.** Platz).

Schnecke Nummer ____ ist _____. (____ Platz)

Schnecke Nummer ____ ist _____. (____ Platz)

Schnecke Nummer ____ ist _____. (____ Platz)

Schnecke Nummer ____ ist _____. (____ Platz)

Schnecke Nummer ____ ist _____. (____ Platz)

Schnecke Nummer ____ ist _____. (____ Platz)

Schnecke Nummer ____ ist _____. (____ Platz)

Schnecke Nummer ____ ist _____. (____ Platz)

