




In jeder Zahlenreihe fehlen 3 Zahlen.
 Finde sie heraus und schreibe sie auf.

Zahlenreihe 	? ? ? ? ? ?
0 – 1 – 2 – 3 – 4 – 7 – 8 – 9 – 10 – 11 – 12 – 13 – 14 – 16 – 17 – 18 – 19	
10 – 11 – 12 – 14 – 15 – 16 – 18 – 19 – 20 – 22 – 23 – 24 – 26 – 27 – 28	
29 – 30 – 32 – 33 – 35 – 37 – 38 – 39 – 40 – 41 – 42 – 43 – 44 – 45 – 46	
47 – 48 – 49 – 51 – 52 – 53 – 55 – 56 – 57 – 58 – 60 – 61 – 62 – 63 – 64	
65 – 66 – 67 – 68 – 71 – 72 – 73 – 74 – 75 – 76 – 77 – 78 – 79 – 81 – 82	
83 – 84 – 85 – 86 – 88 – 89 – 91 – 92 – 93 – 94 – 95 – 97 – 98 – 100	

In jeder Zahlenreihe fehlen 3 Zahlen.
Finde sie heraus und schreibe sie auf.

Zahlenreihe		? ? ? ? ? ?
100 – 101 – 102 – 104 – 105 – 106 – 107 – 109 – 110 – 111 – 113 – 114		
115 – 116 – 117 – 119 – 120 – 121 -123 – 124 – 125 – 126 – 128 – 129		
130 – 132 – 133 – 134 – 136 – 137 – 139 – 140 – 141 – 143 – 144 - 145		
146 – 147 – 148 -149 – 151 – 153 – 154 – 156 – 157 – 158 – 160 – 161		
162 – 163 – 164 – 165 – 167 – 169 – 170 – 171 – 172 – 173 – 175 – 176		
177 – 178 – 179 – 181 – 182 – 183 -184 – 185 – 188 – 189 – 190 – 191		
192 – 193 – 197 – 198 – 199 – 200 – 201 – 202 – 203 – 204 – 205 – 206		
207 – 208 – 209 – 211 – 213 – 214 – 215 – 216 – 217 – 218 – 220 – 221		

**In jeder Zahlenreihe fehlen 3 Zahlen.
Finde sie heraus und schreibe sie auf.**

Zahlenreihe 	? ? ? ? ?

Kopiervorlage