

**Zähle die „Herzzahlen“ zusammen.** Tipp: Eine beschreibbare Folie erspart viele Kopien!

0 1 2  4 5 6  8 9 10



$$\square + \square = \square$$

10 9  7 6 5 4 3  1 0

$$\square + \square = \square$$


0 1 2 3 4  6 7 8 9  11 12 13 14 15

$$\square + \square = \square$$



15 14 13  11 10 9 8 7 6 5 4  2 1 0

$$\square + \square = \square$$



Zähle die „Sternzahlen“ zusammen.

0 1 2 3 4  6 7 8 9 10 11 12 13 14  16 17 18 19 20



$$\square + \square = \square$$

20 19 18 17  15 14 13 12 11 10 9 8 7 6 5  3 2 1 0

$$\square + \square = \square$$

0 1 2 3 4 5 6  8 9 10 11 12  14 15 16 17 18 19 20

$$\square + \square = \square$$

20 19 18 17 16 15  13 12 11 10 9 8 7  5 4 3 2 1 0

$$\square + \square = \square$$

Zähle die „Apfelzahlen“ zusammen.

0 1  3 4 5 6 7  9  11 12 13 14 15 16 17 18 19 20


$$\square + \square + \square = \square$$

20 19 18 17 16 15 14 13 12  10 9 8 7  5 4  2 1 0

$$\square + \square + \square = \square$$

0 1 2 3  5  7 8 9  11 12 13 14 15 16 17 18 19 20

$$\square + \square + \square = \square$$

20 19 18 17 16 15  13 12 11 10 9 8 7 6 5  3  1 0

$$\square + \square + \square = \square$$

# Zähle die \_\_\_\_\_ zusammen. (Kopiervorlage)

Tipp: Lösbare Klebpunkte und eine beschreibbare Folie ersparen viele Kopien!

**0 1 2 3 4 5 6 7 8 9 10**

$$\square + \square = \square$$

**10 9 8 7 6 5 4 3 2 1 0**

$$\square + \square = \square$$

**0 1 2 3 4 5 6 7 8 9 10 11 12 13 14 15**

$$\square + \square = \square$$

**15 14 13 12 11 10 9 8 7 6 5 4 3 2 1 0**

$$\square + \square = \square$$

**Zähle die \_\_\_\_\_ zusammen.** (Kopiervorlage)

**0 1 2 3 4 5 6 7 8 9 10 11 12 13 14 15 16 17 18 19 20**

$$\square + \square = \square$$

**20 19 18 17 16 15 14 13 12 11 10 9 8 7 6 5 4 3 2 1 0**

$$\square + \square = \square$$

**0 1 2 3 4 5 6 7 8 9 10 11 12 13 14 15 16 17 18 19 20**

$$\square + \square = \square$$

**20 19 18 17 16 15 14 13 12 11 10 9 8 7 6 5 4 3 2 10**

$$\square + \square = \square$$

**Zähle die \_\_\_\_\_ zusammen.** (Kopiervorlage)

**0 1 2 3 4 5 6 7 8 9 10 11 12 13 14 15 16 17 18 19 20**

$$\square + \square + \square = \square$$

**20 19 18 17 16 15 14 13 12 11 10 9 8 7 6 5 4 3 2 1 0**

$$\square + \square + \square = \square$$

**0 1 2 3 4 5 6 7 8 9 10 11 12 13 14 15 16 17 18 19 20**

$$\square + \square + \square = \square$$

**20 19 18 17 16 15 14 13 12 11 10 9 8 7 6 5 4 3 2 1 0**

$$\square + \square + \square = \square$$