


Zeichne wie es die Anweisungen dir sagen. Fang bei dem Punkt an. Wenn du alles richtig machst, kommt ein Bild heraus.



Die Zahlen sagen dir wie viele Kästchen du laufen musst. Die Pfeile geben dir die Richtung an.

a) 2 →

b) 6 ↑

c) 3 ↗

d) 3 ↘

e) 5 →

f) 6 ↓

g) 1 ←

h) 5 ↑

i) 3 ←

j) 5 ↓

k) 3 ←


l) 3 ↑

m) 2 ←



















n) 3 ↓

o) 2 ←


Zeichne wie es die Anweisungen dir sagen. Fang beim Punkt an. Wenn du alles richtig machst, kommt ein Bild heraus.



Die Zahlen sagen dir wie viele Kästchen du laufen musst. Die Pfeile geben dir die Richtung an.

a) 1 	b) 4 	c) 4 	d) 3 	e) 3 	f) 2 
g) 2 	h) 1 	i) 2 	j) 2 	k) 1 	l) 2 
m) 2 	n) 3 	o) 3 	p) 4 	q) 4 	r) 1 

Zeichne wie es die Anweisungen dir sagen. Fang beim Punkt an. Wenn du alles richtig machst, kommt ein Bild heraus.



Die Zahlen sagen dir wie viele Kästchen du laufen musst. Die Pfeile geben dir die Richtung an.

a) 2 ↑	b) 1 ↖	c) 2 ↓	d) 1 ↗	e) 3 ↑	f) 1 ↖
g) 2 ↓	h) 1 ↗	i) 2 ↑	j) 3 ↖	k) 3 ↗	l) 3 ↘
m) 3 ↘	n) 2 ↓	o) 1 ↗	p) 2 ↓	q) 1 ↖	r) 3 ↓
s) 1 ↗	t) 2 ↓	u) 1 ↖	v) 2 ↓		