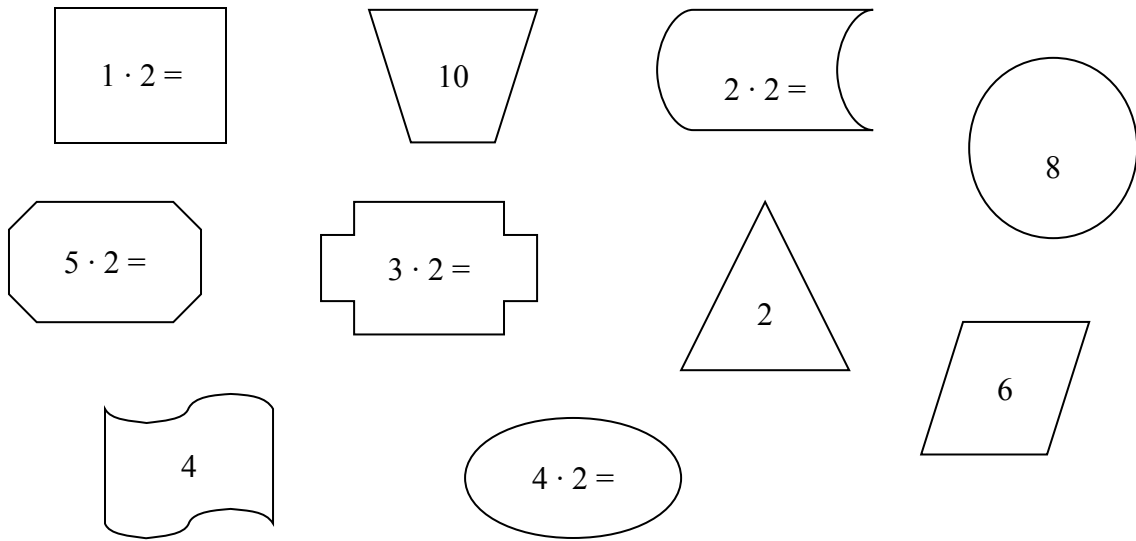


Die 2er-Reihe

**Male die Aufgabe und das Ergebnis in derselben Farbe an!**



Rechne aus:

1 · 2 = .....

10 : 2 = .....

5 · 2 = .....

2 : 2 = .....

3 · 2 = .....

6 : 2 = .....

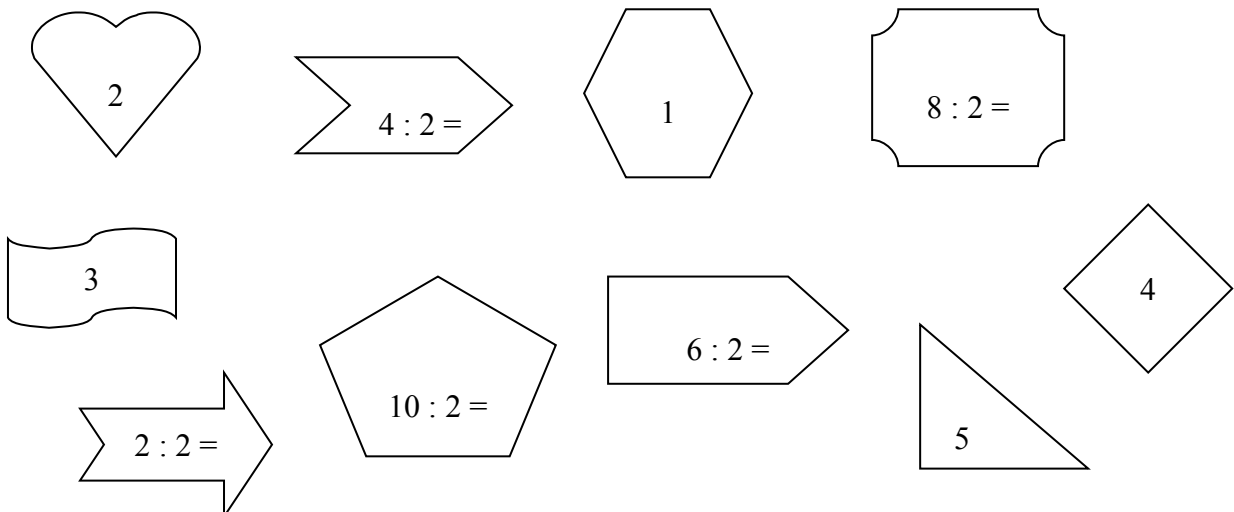
2 · 2 = .....

4 : 2 = .....

4 · 2 = .....

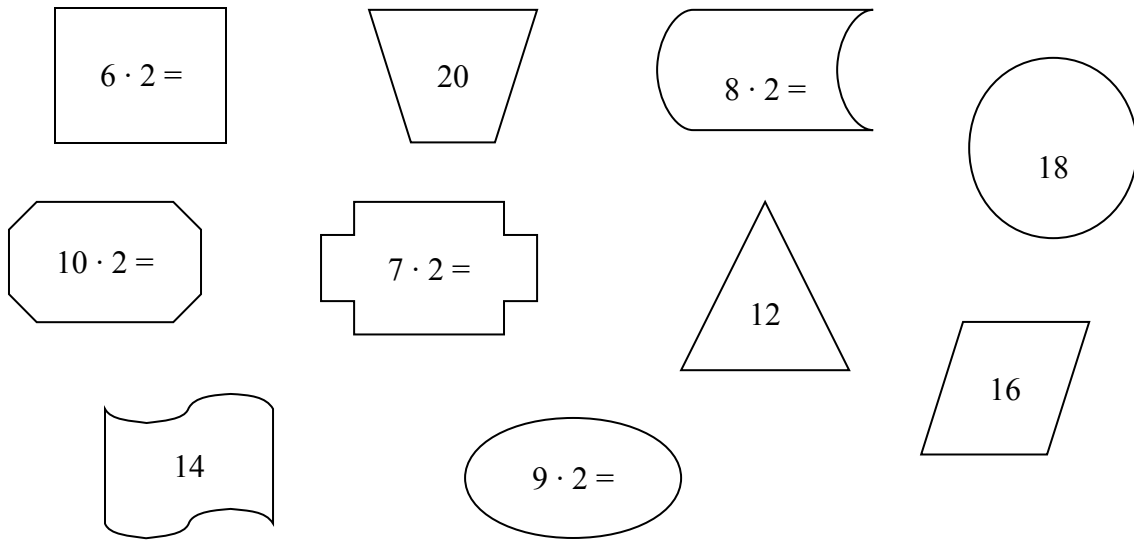
8 : 2 = .....

**Male die Aufgabe und das Ergebnis in derselben Farbe an!**



Die 2er-Reihe

**Male die Aufgabe und das Ergebnis in derselben Farbe an!**



Rechne aus:

6 · 2 = .....

20 : 2 = .....

10 · 2 = .....

12 : 2 = .....

7 · 2 = .....

16 : 2 = .....

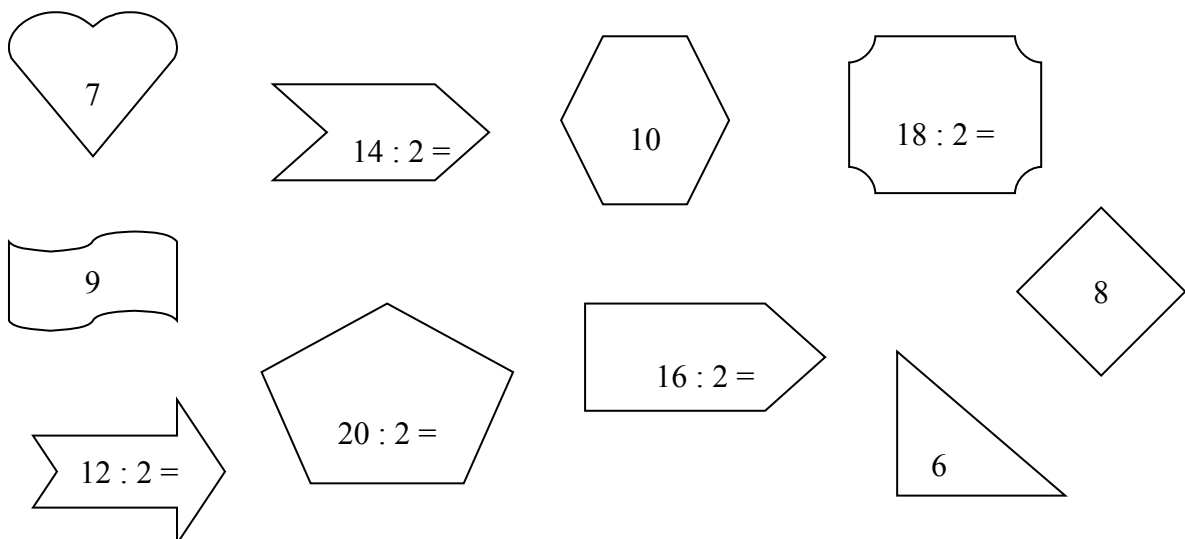
9 · 2 = .....

14 : 2 = .....

8 · 2 = .....

18 : 2 = .....

**Male die Aufgabe und das Ergebnis in derselben Farbe an!**



**Die 2er-Reihe - Male die Kästchen an, die der Aufgabe entsprechen, und schreibe das Ergebnis auf:**

Beispiel:  $3 \cdot 2 = 6$

1	2	3	4	5	6	7	8	9	10
11	12	13	14	15	16	17	18	19	20

$5 \cdot 2 = \dots\dots\dots$

1	2	3	4	5	6	7	8	9	10
11	12	13	14	15	16	17	18	19	20

$8 \cdot 2 = \dots\dots\dots$

1	2	3	4	5	6	7	8	9	10
11	12	13	14	15	16	17	18	19	20

$7 \cdot 2 = \dots\dots\dots$

1	2	3	4	5	6	7	8	9	10
11	12	13	14	15	16	17	18	19	20

$9 \cdot 2 = \dots\dots\dots$

1	2	3	4	5	6	7	8	9	10
11	12	13	14	15	16	17	18	19	20

$6 \cdot 2 = \dots\dots\dots$

1	2	3	4	5	6	7	8	9	10
11	12	13	14	15	16	17	18	19	20

$4 \cdot 2 = \dots\dots\dots$

1	2	3	4	5	6	7	8	9	10
11	12	13	14	15	16	17	18	19	20

$10 \cdot 2 = \dots\dots\dots$

1	2	3	4	5	6	7	8	9	10
11	12	13	14	15	16	17	18	19	20