





































## Zähle laut und rechne aus!

●	+	●	=	
●	+	● ●	=	
● ●	+	●	=	
●	+	● ● ●	=	
● ● ●	+	●	=	
●	+	● ● ● ●	=	
● ● ● ●	+	●	=	
●	+	● ● ● ● ●	=	
● ● ● ● ●	+	●	=	
●	+	● ●	=	
●	+	● ● ●	=	
●	+	● ● ● ●	=	
●	+	● ● ● ● ●	=	
●	+	●	=	
● ●	+	●	=	
● ● ●	+	●	=	
● ● ● ●	+	●	=	
● ● ● ● ●	+	●	=	

## Zähle laut und rechne aus!

	-		=	
	-		=	
	-		=	
	-		=	
	-		=	
	-		=	
	-		=	
	-		=	
	-		=	
	-		=	
	-		=	
	-		=	
	-		=	
	-		=	
	-		=	
	-		=	
	-		=	
	-		=	























Zähle laut und rechne aus!

<b>1</b>	<b>+</b>	<b>1</b>	<b>=</b>	
<b>1</b>	<b>+</b>	<b>2</b>	<b>=</b>	
<b>2</b>	<b>+</b>	<b>1</b>	<b>=</b>	
<b>1</b>	<b>+</b>	<b>3</b>	<b>=</b>	
<b>3</b>	<b>+</b>	<b>1</b>	<b>=</b>	
<b>1</b>	<b>+</b>	<b>4</b>	<b>=</b>	
<b>4</b>	<b>+</b>	<b>4</b>	<b>=</b>	
<b>1</b>	<b>+</b>	<b>5</b>	<b>=</b>	
<b>5</b>	<b>+</b>	<b>1</b>	<b>=</b>	
<b>1</b>	<b>+</b>	<b>2</b>	<b>=</b>	
<b>1</b>	<b>+</b>	<b>3</b>	<b>=</b>	
<b>1</b>	<b>+</b>	<b>4</b>	<b>=</b>	
<b>1</b>	<b>+</b>	<b>5</b>	<b>=</b>	
<b>1</b>	<b>+</b>	<b>3</b>	<b>=</b>	
<b>2</b>	<b>+</b>	<b>1</b>	<b>=</b>	
<b>3</b>	<b>+</b>	<b>1</b>	<b>=</b>	
<b>4</b>	<b>+</b>	<b>1</b>	<b>=</b>	
<b>5</b>	<b>+</b>	<b>1</b>	<b>=</b>	





























Zähle laut und rechne aus!

<b>1</b>	<b>-</b>	<b>1</b>	<b>=</b>	
<b>2</b>	<b>-</b>	<b>1</b>	<b>=</b>	
<b>3</b>	<b>-</b>	<b>1</b>	<b>=</b>	
<b>4</b>	<b>-</b>	<b>1</b>	<b>=</b>	
<b>5</b>	<b>-</b>	<b>1</b>	<b>=</b>	
<b>1</b>	<b>-</b>	<b>1</b>	<b>=</b>	
<b>2</b>	<b>-</b>	<b>1</b>	<b>=</b>	
<b>3</b>	<b>-</b>	<b>1</b>	<b>=</b>	
<b>4</b>	<b>-</b>	<b>1</b>	<b>=</b>	
<b>5</b>	<b>-</b>	<b>1</b>	<b>=</b>	
<b>2</b>	<b>-</b>	<b>1</b>	<b>=</b>	
<b>3</b>	<b>-</b>	<b>1</b>	<b>=</b>	
<b>4</b>	<b>-</b>	<b>1</b>	<b>=</b>	
<b>5</b>	<b>-</b>	<b>1</b>	<b>=</b>	
<b>1</b>	<b>-</b>	<b>1</b>	<b>=</b>	
<b>3</b>	<b>-</b>	<b>1</b>	<b>=</b>	
<b>4</b>	<b>-</b>	<b>1</b>	<b>=</b>	
<b>5</b>	<b>-</b>	<b>1</b>	<b>=</b>	

Zähle laut und rechne aus!

	+		=	
	+		=	
	+		=	
	+		=	
	+		=	
<b>2</b>	+	<b>1</b>	=	
	+		=	
<b>1</b>	+	<b>2</b>	=	
	+		=	
<b>2</b>	+	<b>3</b>	=	
	+		=	
<b>3</b>	+	<b>2</b>	=	
	+		=	
<b>1</b>	+	<b>4</b>	=	
	+		=	
<b>4</b>	+	<b>1</b>	=	
	+		=	
<b>5</b>	+	<b>1</b>	=	

## Zähle laut und rechne aus!

	-		=	
	-		=	
	-		=	
	-		=	
	-		=	
	-		=	
	-		=	
	-		=	
	-		=	
	-		=	
	-		=	
<b>3</b>	-	<b>2</b>	=	
	-		=	
<b>4</b>	-	<b>2</b>	=	
	-		=	
<b>5</b>	-	<b>2</b>	=	
	-		=	
<b>5</b>	-	<b>4</b>	=	

Zähle laut und rechne aus!





































<b>2</b>	<b>+</b>	<b>3</b>	<b>=</b>	
<b>4</b>	<b>+</b>	<b>1</b>	<b>=</b>	
<b>1</b>	<b>+</b>	<b>2</b>	<b>=</b>	
<b>2</b>	<b>+</b>	<b>2</b>	<b>=</b>	
<b>1</b>	<b>+</b>	<b>4</b>	<b>=</b>	
<b>3</b>	<b>+</b>	<b>2</b>	<b>=</b>	
<b>2</b>	<b>+</b>	<b>3</b>	<b>=</b>	
<b>5</b>	<b>+</b>	<b>0</b>	<b>=</b>	
<b>0</b>	<b>+</b>	<b>5</b>	<b>=</b>	
<b>4</b>	<b>+</b>	<b>0</b>	<b>=</b>	
<b>0</b>	<b>+</b>	<b>4</b>	<b>=</b>	
<b>3</b>	<b>+</b>	<b>0</b>	<b>=</b>	
<b>0</b>	<b>+</b>	<b>3</b>	<b>=</b>	
<b>1</b>	<b>+</b>	<b>3</b>	<b>=</b>	
<b>2</b>	<b>+</b>	<b>3</b>	<b>=</b>	
<b>2</b>	<b>+</b>	<b>2</b>	<b>=</b>	
<b>4</b>	<b>+</b>	<b>1</b>	<b>=</b>	
<b>1</b>	<b>+</b>	<b>1</b>	<b>=</b>	

Zähle laut und rechne aus!





































<b>2</b>	<b>-</b>	<b>2</b>	<b>=</b>	
<b>3</b>	<b>-</b>	<b>2</b>	<b>=</b>	
<b>4</b>	<b>-</b>	<b>2</b>	<b>=</b>	
<b>5</b>	<b>-</b>	<b>2</b>	<b>=</b>	
<b>1</b>	<b>-</b>	<b>1</b>	<b>=</b>	
<b>2</b>	<b>-</b>	<b>1</b>	<b>=</b>	
<b>3</b>	<b>-</b>	<b>1</b>	<b>=</b>	
<b>4</b>	<b>-</b>	<b>1</b>	<b>=</b>	
<b>5</b>	<b>-</b>	<b>1</b>	<b>=</b>	
<b>1</b>	<b>-</b>	<b>0</b>	<b>=</b>	
<b>2</b>	<b>-</b>	<b>0</b>	<b>=</b>	
<b>3</b>	<b>-</b>	<b>0</b>	<b>=</b>	
<b>4</b>	<b>-</b>	<b>0</b>	<b>=</b>	
<b>5</b>	<b>-</b>	<b>0</b>	<b>=</b>	
<b>1</b>	<b>-</b>	<b>1</b>	<b>=</b>	
<b>2</b>	<b>-</b>	<b>2</b>	<b>=</b>	
<b>3</b>	<b>-</b>	<b>3</b>	<b>=</b>	
<b>4</b>	<b>-</b>	<b>4</b>	<b>=</b>	



## Zähle laut und rechne aus!

	+		=	
	+		=	
	+		=	
	+		=	
	+		=	
	+		=	
	+		=	
	+		=	
	+		=	
	+		=	
	+		=	
	+		=	
	+		=	
	+		=	
	+		=	
	+		=	
	+		=	
	+		=	

# 1 Zähle laut und rechne aus!

	-		=	
	-		=	
	-		=	
	-		=	
	-		=	
	-		=	
	-		=	
	-		=	
	-		=	
	-		=	
	-		=	
	-		=	
	-		=	
	-		=	
	-		=	
	-		=	
	-		=	
	-		=	



















Zähle laut und rechne aus!

<b>5</b>	<b>+</b>	<b>1</b>	<b>=</b>	
<b>5</b>	<b>+</b>	<b>2</b>	<b>=</b>	
<b>5</b>	<b>+</b>	<b>3</b>	<b>=</b>	
<b>5</b>	<b>+</b>	<b>4</b>	<b>=</b>	
<b>5</b>	<b>+</b>	<b>5</b>	<b>=</b>	
<b>6</b>	<b>+</b>	<b>1</b>	<b>=</b>	
<b>6</b>	<b>+</b>	<b>2</b>	<b>=</b>	
<b>6</b>	<b>+</b>	<b>3</b>	<b>=</b>	
<b>6</b>	<b>+</b>	<b>4</b>	<b>=</b>	
<b>7</b>	<b>+</b>	<b>1</b>	<b>=</b>	
<b>7</b>	<b>+</b>	<b>2</b>	<b>=</b>	
<b>7</b>	<b>+</b>	<b>3</b>	<b>=</b>	
<b>8</b>	<b>+</b>	<b>1</b>	<b>=</b>	
<b>8</b>	<b>+</b>	<b>2</b>	<b>=</b>	
<b>9</b>	<b>+</b>	<b>1</b>	<b>=</b>	
<b>5</b>	<b>+</b>	<b>0</b>	<b>=</b>	
<b>6</b>	<b>+</b>	<b>0</b>	<b>=</b>	
<b>7</b>	<b>+</b>	<b>0</b>	<b>=</b>	



















Zähle laut und rechne aus!

<b>10</b>	<b>-</b>	<b>1</b>	<b>=</b>	
<b>9</b>	<b>-</b>	<b>1</b>	<b>=</b>	
<b>8</b>	<b>-</b>	<b>1</b>	<b>=</b>	
<b>7</b>	<b>-</b>	<b>1</b>	<b>=</b>	
<b>6</b>	<b>-</b>	<b>1</b>	<b>=</b>	
<b>5</b>	<b>-</b>	<b>1</b>	<b>=</b>	
<b>10</b>	<b>-</b>	<b>2</b>	<b>=</b>	
<b>9</b>	<b>-</b>	<b>2</b>	<b>=</b>	
<b>8</b>	<b>-</b>	<b>2</b>	<b>=</b>	
<b>7</b>	<b>-</b>	<b>2</b>	<b>=</b>	
<b>6</b>	<b>-</b>	<b>2</b>	<b>=</b>	
<b>5</b>	<b>-</b>	<b>2</b>	<b>=</b>	
<b>10</b>	<b>-</b>	<b>3</b>	<b>=</b>	
<b>9</b>	<b>-</b>	<b>3</b>	<b>=</b>	
<b>8</b>	<b>-</b>	<b>3</b>	<b>=</b>	
<b>7</b>	<b>-</b>	<b>3</b>	<b>=</b>	
<b>6</b>	<b>-</b>	<b>3</b>	<b>=</b>	
<b>5</b>	<b>-</b>	<b>3</b>	<b>=</b>	

Zähle laut und rechne aus!

	+		=	
<b>5</b>	+	<b>5</b>	=	
	+		=	
<b>4</b>	+	<b>4</b>	=	
	+		=	
<b>3</b>	+	<b>3</b>	=	
	+		=	
<b>5</b>	+	<b>3</b>	=	
	+		=	
<b>4</b>	+	<b>3</b>	=	
	+		=	
<b>6</b>	+	<b>2</b>	=	
	+		=	
<b>6</b>	+	<b>4</b>	=	
	+		=	
<b>7</b>	+	<b>1</b>	=	
	+		=	
<b>8</b>	+	<b>1</b>	=	

Zähle laut und rechne aus!

	-		=	
10	-	1	=	
	-		=	
9	-	1	=	
	-		=	
8	-	1	=	
	-		=	
7	-	1	=	
	-		=	
6	-	1	=	
	-		=	
10	-	2	=	
	-		=	
9	-	2	=	
	-		=	
8	-	2	=	
	-		=	
7	-	2	=	

Zähle laut und rechne aus!

<b>5</b>	<b>+</b>	<b>1</b>	<b>=</b>	
<b>5</b>	<b>+</b>	<b>2</b>	<b>=</b>	
<b>5</b>	<b>+</b>	<b>3</b>	<b>=</b>	
<b>5</b>	<b>+</b>	<b>4</b>	<b>=</b>	
<b>5</b>	<b>+</b>	<b>5</b>	<b>=</b>	
<b>6</b>	<b>+</b>	<b>1</b>	<b>=</b>	
<b>6</b>	<b>+</b>	<b>2</b>	<b>=</b>	
<b>6</b>	<b>+</b>	<b>3</b>	<b>=</b>	
<b>6</b>	<b>+</b>	<b>4</b>	<b>=</b>	
<b>7</b>	<b>+</b>	<b>1</b>	<b>=</b>	
<b>7</b>	<b>+</b>	<b>2</b>	<b>=</b>	
<b>7</b>	<b>+</b>	<b>3</b>	<b>=</b>	
<b>8</b>	<b>+</b>	<b>1</b>	<b>=</b>	
<b>8</b>	<b>+</b>	<b>2</b>	<b>=</b>	
<b>9</b>	<b>+</b>	<b>1</b>	<b>=</b>	
<b>2</b>	<b>+</b>	<b>2</b>	<b>=</b>	
<b>8</b>	<b>+</b>	<b>0</b>	<b>=</b>	
<b>10</b>	<b>+</b>	<b>0</b>	<b>=</b>	

Zähle laut und rechne aus!

<b>10</b>	<b>-</b>	<b>2</b>	<b>=</b>	
<b>10</b>	<b>-</b>	<b>3</b>	<b>=</b>	
<b>10</b>	<b>-</b>	<b>4</b>	<b>=</b>	
<b>10</b>	<b>-</b>	<b>5</b>	<b>=</b>	
<b>10</b>	<b>-</b>	<b>6</b>	<b>=</b>	
<b>10</b>	<b>-</b>	<b>7</b>	<b>=</b>	
<b>10</b>	<b>-</b>	<b>8</b>	<b>=</b>	
<b>10</b>	<b>-</b>	<b>9</b>	<b>=</b>	
<b>10</b>	<b>-</b>	<b>10</b>	<b>=</b>	
<b>10</b>	<b>-</b>	<b>0</b>	<b>=</b>	
<b>9</b>	<b>-</b>	<b>2</b>	<b>=</b>	
<b>9</b>	<b>-</b>	<b>3</b>	<b>=</b>	
<b>9</b>	<b>-</b>	<b>4</b>	<b>=</b>	
<b>9</b>	<b>-</b>	<b>5</b>	<b>=</b>	
<b>9</b>	<b>-</b>	<b>6</b>	<b>=</b>	
<b>9</b>	<b>-</b>	<b>7</b>	<b>=</b>	
<b>9</b>	<b>-</b>	<b>8</b>	<b>=</b>	
<b>9</b>	<b>-</b>	<b>9</b>	<b>=</b>	



Zähle laut und rechne aus!

<b>8</b>	<b>-</b>	<b>2</b>	<b>=</b>	
<b>8</b>	<b>-</b>	<b>3</b>	<b>=</b>	
<b>8</b>	<b>-</b>	<b>4</b>	<b>=</b>	
<b>8</b>	<b>-</b>	<b>5</b>	<b>=</b>	
<b>8</b>	<b>-</b>	<b>6</b>	<b>=</b>	
<b>8</b>	<b>-</b>	<b>7</b>	<b>=</b>	
<b>8</b>	<b>-</b>	<b>8</b>	<b>=</b>	
<b>8</b>	<b>-</b>	<b>0</b>	<b>=</b>	
<b>7</b>	<b>-</b>	<b>2</b>	<b>=</b>	
<b>7</b>	<b>-</b>	<b>3</b>	<b>=</b>	
<b>7</b>	<b>-</b>	<b>4</b>	<b>=</b>	
<b>7</b>	<b>-</b>	<b>5</b>	<b>=</b>	
<b>7</b>	<b>-</b>	<b>6</b>	<b>=</b>	
<b>7</b>	<b>-</b>	<b>7</b>	<b>=</b>	
<b>6</b>	<b>-</b>	<b>2</b>	<b>=</b>	
<b>6</b>	<b>-</b>	<b>3</b>	<b>=</b>	
<b>6</b>	<b>-</b>	<b>4</b>	<b>=</b>	
<b>6</b>	<b>-</b>	<b>5</b>	<b>=</b>	

Zähle laut und rechne aus!

<b>4</b>	<b>-</b>	<b>1</b>	<b>=</b>	
<b>5</b>	<b>-</b>	<b>5</b>	<b>=</b>	
<b>3</b>	<b>-</b>	<b>4</b>	<b>=</b>	
<b>1</b>	<b>-</b>	<b>7</b>	<b>=</b>	
<b>2</b>	<b>-</b>	<b>2</b>	<b>=</b>	
<b>5</b>	<b>-</b>	<b>4</b>	<b>=</b>	
<b>3</b>	<b>-</b>	<b>2</b>	<b>=</b>	
<b>1</b>	<b>-</b>	<b>1</b>	<b>=</b>	
<b>5</b>	<b>-</b>	<b>2</b>	<b>=</b>	
<b>6</b>	<b>-</b>	<b>3</b>	<b>=</b>	
<b>6</b>	<b>-</b>	<b>2</b>	<b>=</b>	
<b>7</b>	<b>-</b>	<b>3</b>	<b>=</b>	
<b>1</b>	<b>-</b>	<b>0</b>	<b>=</b>	
<b>8</b>	<b>-</b>	<b>2</b>	<b>=</b>	
<b>3</b>	<b>-</b>	<b>3</b>	<b>=</b>	
<b>6</b>	<b>-</b>	<b>3</b>	<b>=</b>	
<b>3</b>	<b>-</b>	<b>1</b>	<b>=</b>	
<b>6</b>	<b>-</b>	<b>5</b>	<b>=</b>	

Denke dir Aufgaben aus mit Plus oder Minus bei denen  
immer 5 das Ergebnis ist.

---

---

---

---

---

---

---

---

---

---

---

---

---

---

---

Denke dir Aufgaben aus mit Plus oder Minus bei denen  
immer 6 das Ergebnis ist.

---

---

---

---

---

---

---

---

---

---

---

---

---

---

---

---

---

---

---

---

---

---

---

---

---

---

---



Denke dir Aufgaben aus mit Plus oder Minus bei denen  
immer 8 das Ergebnis ist.

---

---

---

---

---

---

---

---

---

---

---

---

---

---

---

---

---

---

---

---

---

---

Denke dir Aufgaben aus mit Plus oder Minus bei denen  
immer 9 das Ergebnis ist.

---

---

---

---

---

---

---

---

---

---

---

---

---

---

---

---

---

---

---

---

---

---

Denke dir Aufgaben aus mit Plus oder Minus bei denen  
immer 10 das Ergebnis ist.

---

---

---

---

---

---

---

---

---

---

---

---

---

---

---

---

---

---

---

---



Welche Zahl ist größer kreuze diese an!

2	oder	5
5	oder	6
1	oder	10
3	oder	7
7	oder	5
9	oder	8
5	oder	3
6	oder	2
4	oder	1
10	oder	1
8	oder	9
6	oder	8
6	oder	9
9	oder	6
7	oder	1

## Welche Zahlen fehlen hier?

0 \_\_\_\_\_ 5

5 \_\_\_\_\_ 10

1 \_\_\_\_\_ 6

2 \_\_\_\_\_ 8

2 \_\_\_\_\_ 7

6 \_\_\_\_\_ 10

3 \_\_\_\_\_ 8

5 \_\_\_\_\_ 8

4 \_\_\_\_\_ 9



3 \_\_\_\_\_ 10

5 \_\_\_\_\_ 10

1 \_\_\_\_\_ 10

Lies laut, schreibe die Aufgabe auf und rechne aus!

1. Aufgabe:

Ich habe 3  Bälle. Einer  davon geht kaputt. Wie viele Bälle habe ich dann noch?

			=	
--	--	--	---	--

2. Aufgabe:

Ich habe 2  Bälle. Zwei  Bälle bekomme ich noch dazu. Wie viele Bälle habe ich dann?

			=	
--	--	--	---	--



3. Aufgabe:

Ich habe 5  Bälle. Alle fünf  verliere ich. Wie viele Bälle habe ich dann noch?

			=	
--	--	--	---	--

Lies laut, schreibe die Aufgabe auf und rechne aus!

4. Aufgabe:

Ich habe 4  Bälle. Drei  gebe ich meinen Freunden. Wie viele Bälle habe ich dann noch?

			=	
--	--	--	---	--

5. Aufgabe:

Ich habe 3  Bälle. Zwei  bekomme ich dazu. Wie viele habe ich dann?

			=	
--	--	--	---	--






6. Aufgabe:

Ich habe 4  Bälle. Einen  bekomme ich dazu. Wie viele Bälle habe ich dann?

			=	
--	--	--	---	--








Lies laut, schreibe die Aufgabe auf und rechne aus!

7. Aufgabe:

Ich habe 3  Tassen. Zwei  bekomme ich dazu. Wie viele Tassen habe ich dann?







			=	
--	--	--	---	--

8. Aufgabe:

Ich habe 5  Blumen. Zwei  davon verschenke ich. Wie viele Blumen habe ich dann noch?

			=	
--	--	--	---	--

9. Aufgabe:

Ich habe drei  Herzen. Drei  verschenke ich. Wie viele Herzen habe ich dann noch?

			=	
--	--	--	---	--

Lies laut, schreibe die Aufgabe auf und rechne aus!

10. Aufgabe:

Ich habe 5  Tassen. Fünf  gehen kaputt. Wie viele Tassen habe ich dann noch?

			=	
--	--	--	---	--

11. Aufgabe:

Ich habe 4  Töpfe. Vier  verliere ich. Wie viele Töpfe habe ich dann noch?

			=	
--	--	--	---	--



12. Aufgabe:

Du hast 8  Bälle. Einer  davon geht kaputt. Wie viele Bälle hast du dann noch?

			=	
--	--	--	---	--

Lies laut, schreibe die Aufgabe auf und rechne aus!

13. Aufgabe:

Du hast 5  Bälle. Bekommst noch fünf  Bälle dazu. Wie viele Bälle hast du dann?



			=	
--	--	--	---	--

14. Aufgabe:

Du hast 10  Bälle. Fünf  Bälle verlierst du. Wie viele Bälle hast du dann noch?

			=	
--	--	--	---	--

15. Aufgabe:

Du hast 9  Bälle. Drei  gibst du deinen Freunden. Wie viele Bälle hast du dann noch?

			=	
--	--	--	---	--

Lies laut, schreibe die Aufgabe auf und rechne aus!

16. Aufgabe:

Du hast 8  Bälle. Zwei  bekommst du dazu. Wie viele hast du dann?

			=	
--	--	--	---	--

17. Aufgabe:

Du hast 9  Bälle. Einen  bekommst du dazu. Wie viele hast du dann?

			=	
--	--	--	---	--

18. Aufgabe:



Du hast 8  Töpfe. Einer  davon geht kaputt. Wie viele Töpfe hast du dann noch?

			=	
--	--	--	---	--



Lies laut, schreibe die Aufgabe auf und rechne aus!

19. Aufgabe:

Du hast 5  Töpfe. Bekommst noch fünf  Töpfe dazu. Wie viele Töpfe hast du dann?



			=	
--	--	--	---	--

20. Aufgabe:

Du hast 10  Töpfe. Fünf  verlierst du. Wie viele Töpfe hast du dann noch?

			=	
--	--	--	---	--

21. Aufgabe:

Du hast 9  Töpfe. Drei  gibst du deinen Freunden. Wie viele Töpfe hast du dann noch?

			=	
--	--	--	---	--

Lies laut, schreibe die Aufgabe auf und rechne aus!

22. Aufgabe:

Du hast 8  Töpfe. Zwei  bekommst du dazu. Wie viele Töpfe hast du dann?

			=	
--	--	--	---	--

23. Aufgabe:

Du hast 9  Töpfe. Einen  bekommst du dazu. Wie viele Töpfe hast du dann?

			=	
--	--	--	---	--



24. Aufgabe:

Du hast 8  Bälle. Einer  davon geht kaputt. Wie viele Bälle hast du dann noch?

			=	
--	--	--	---	--

Lies laut, schreibe die Aufgabe auf und rechne aus!

25. Aufgabe:

Du hast 5  Bälle. Bekommst noch fünf  Bälle dazu. Wie viele Bälle hast du dann?



			=	
--	--	--	---	--

26. Aufgabe:

Du hast 10  Bälle. Fünf  Bälle verlierst du. Wie viele Bälle hast du dann noch?

			=	
--	--	--	---	--

27. Aufgabe:

Du hast 9  Bälle. Drei  gibst du deinen Freunden. Wie viele Bälle hast du dann noch?

			=	
--	--	--	---	--

Lies laut, schreibe die Aufgabe auf und rechne aus!

28. Aufgabe:

Du hast 8  Bälle. Zwei  bekommst du dazu. Wie viele hast du dann?

			=	
--	--	--	---	--

29. Aufgabe:

Du hast 9  Bälle. Einen  bekommst du dazu. Wie viele hast du dann?

			=	
--	--	--	---	--

30. Aufgabe:

Du hast 8  Töpfe. Einer  davon geht kaputt. Wie viele Töpfe hast du dann noch?

			=	
--	--	--	---	--