
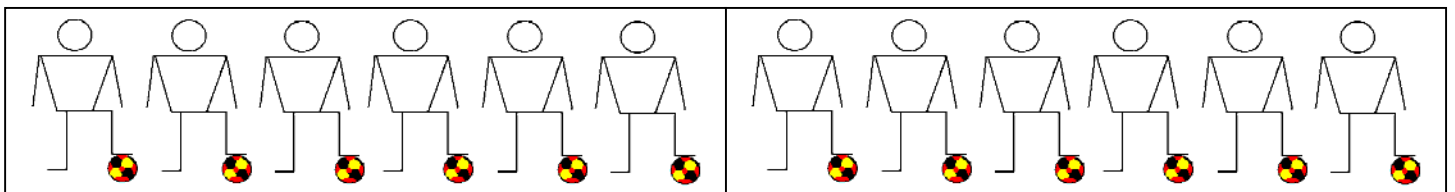
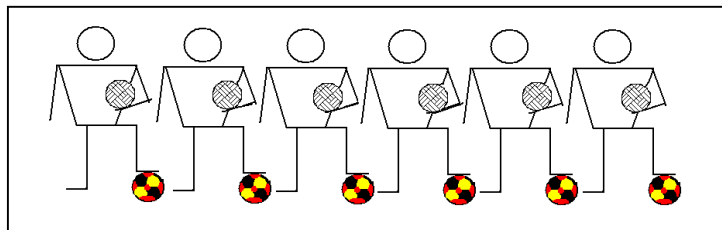
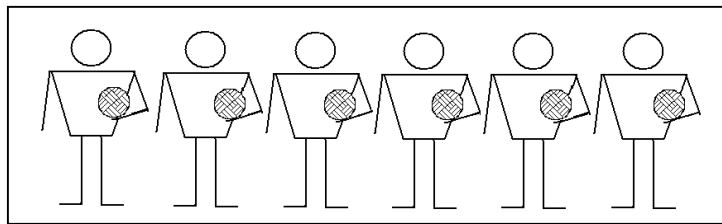


Textrechnungen (1.Klasse AHS)

In einer Sportklasse gibt es zwei Gruppen. Eine Fußballgruppe mit 18 Schülern und eine Volleyballgruppe mit 12 Schülern. 6 Schüler der Klassen spielen sowohl Fußball als auch Volleyball. 3 Schüler haben eine Verletzung und spielen im Moment in keiner Gruppe mit.

1. Wie viele Schüler spielen nur Fußball?
2. Wie viele Schüler spielen nur Volleyball?
3. Wie viele Schüler spielen beides?
4. Wie viele Schüler insgesamt betreiben Sport?
5. Wie viele Schüler sitzen in der Klasse?



In einer Klasse gibt es eine Gruppe Musikanten und eine Gruppe Maler.
 In der Gruppe der Musikanten sind 12 Schüler, in der Gruppe der Maler sind 10 Schüler.
 5 Schüler gehen weder in die Musikgruppe noch in die Malgruppe, sie spielen Tischtennis.
 Und 2 Schüler spielen ein Instrument und malen.

1. Wie viele Schüler sind nur Musikanten?
2. Wie viele Schüler sind nur Maler?
3. Wie viele Schüler machen beides?
4. Wie viele Schüler insgesamt sind künstlerisch tätig?
5. Wie viele Schüler sitzen in der Klasse?

