



Welches Bild wurde  
um 90° nach links gedreht?



Petra Etl.



Welches Bild wurde  
um 90° nach links gedreht?



Petra Etl.



Welches Bild wurde  
um 90° nach links gedreht?



Petra Etl.



Welches Bild wurde  
um  $90^\circ$  nach links gedreht?




Petra Etl.



Welches Bild wurde  
um 90° nach links gedreht?



Petra Etl.



Welches Bild wurde  
um 90° nach links gedreht?



Petra Etl.



Welches Bild wurde  
um 90° nach rechts gedreht?


Petra Etl.



Welches Bild wurde  
um 90° nach rechts gedreht?

Petra Etl.

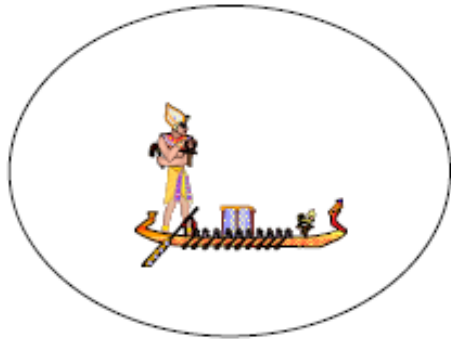




Welches Bild wurde  
um  $90^\circ$  nach rechts gedreht?



Petra Etl.



Welches Bild wurde  
um 90° nach rechts gedreht?



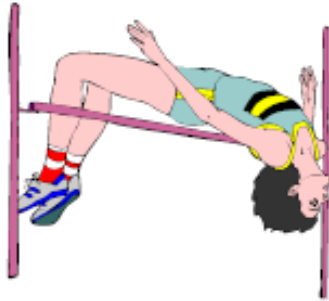
Petra Etl.

Welches Bild wurde um 90° nach links gedreht?



Petra Etl.

Welches Bild wurde um 90° nach links gedreht?



Petra Etl.

Welches Bild wurde um 90° nach links gedreht?



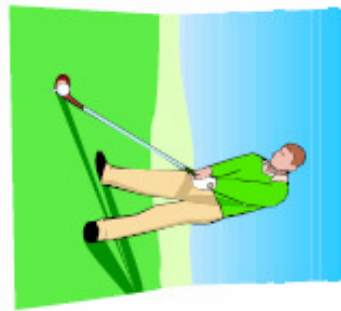

Petra Etl.

Welches Bild wurde um 90° nach links gedreht?



Petra Etl.

Welches Bild wurde um 90° nach links gedreht?



Petra Etl.