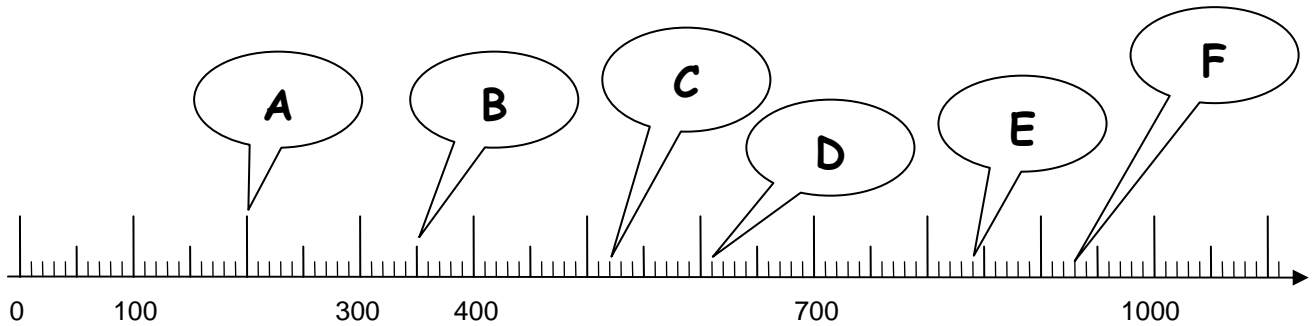


Zahlen finden am Zahlenstrahl

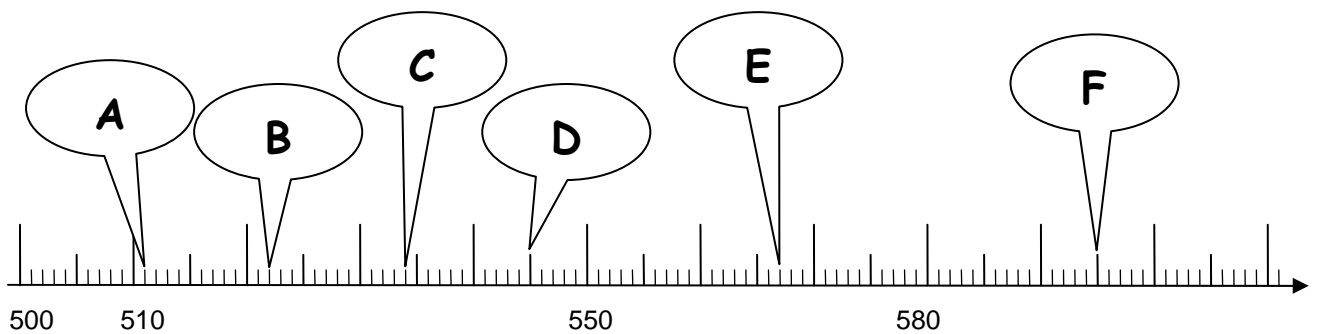

a) Ergänze die fehlenden Zahlen an den langen Strichen des „Maßbandes“.

b) Jeder Buchstabe zeigt auf eine Zahl. Schreibe die Zahlen unten zu den Buchstaben.



A = _____ B = _____ C = _____

D = _____ E = _____ F = _____



A = _____ B = _____ C = _____

D = _____ E = _____ F = _____

