



Rund ums Geld



1. Wie viel Geld hast du?

a)



= _____ €

b)



= _____ €

c)



= _____ €

2. Ordne die Geldbeträge der Größe nach. Beginne mit dem größten Betrag!

347 €	3,47 €	34 € 70ct	34,07 €	3 € 74 ct	3,50 €
-------	--------	-----------	---------	-----------	--------

>	>	>	>	>
---	---	---	---	---

779 €	7,79 €	77 € 90 ct	77,09 €	7 € 97ct	7,82 €
-------	--------	------------	---------	----------	--------

>	>	>	>	>
---	---	---	---	---



3. Rechne im Kopf. Schreibe das Ergebnis in die freie Spalte!







Aufgabe	Ergebnis
Familie Schulz geht einkaufen. Sie bezahlen folgende Beträge: 10€, 20€, 150€ und 50€. Wie viel haben sie insgesamt ausgegeben?	
Die Schüler sammeln Geld: Laura sammelt 6 mal 2 €, Simon 3 mal 1 € und Tim 5 mal 3 €. Wie viel Geld haben sie zusammen gesammelt?	
Frau Meier hat für den Salat eine Gurke, zwei Tomaten, eine Möhre und einen Kopfsalat gekauft. Für die Gurke hat sie 1,50 € bezahlt, für beide Tomaten zusammen 1 €, für die Möhre 50 Cent und für den Kopfsalat 2 €. Wie viel hat sie bezahlt?	
Eine Badekappe kostet 4€. Der Verkäufer hat am Ende 36 € in der Kasse. Wie viele Badekappen hat er verkauft?	
Herr Müller geht mit seinen beiden Kindern ins Schwimmbad. Der Eintritt für Erwachsene kostet 7 €, für Kinder 4 €. Wie viel bezahlen alle zusammen?	



Wir gehen einkaufen

Lena kauft ein. Kreuze in der Tabelle an, mit welchen Münzen sie bezahlt und schreibe die Anzahl der Geldstücke, die sie benötigt, dazu.

								
 CD 9,74 €								
 Buch 16,17 €								
 Äpfel 3,43 €								
 Spiel 19,55 €								

 Brot 2,81 €								
 Pullover 18,10 €								
 Ball 7,36 €								
 Halskette 6,89 €								
 Kaugummi 0,62 €								
 Armbanduhr 12,15€								