




Jeweils ein Teil von oben und ein Teil von unten ergeben zusammen eine Ziffer. Finde zu den fünf Teilen oben das fehlende Teil unterhalb der gestrichelten Linie und zeichne es oben ein.



Jeweils ein Teil von oben und ein Teil von unten ergeben zusammen eine Ziffer. Finde zu den fünf Teilen oben das fehlende Teil unterhalb der gestrichelten Linie und zeichne es oben ein.

