







Euro und Cent

1. Wie viel Geld ist im Sparschwein?

		
		
Es sind ____ € und ____ Ct	Es sind ____ € und ____ Ct	Es sind ____ € und ____ Ct

2. Lege den Betrag auf verschiedene Art und Weise mit Geldstücken und trage in die Tabelle ein!

								
10 €								
10 €								
10 €								
10 €								
7 €								
7 €								
7 €								
7 €								